

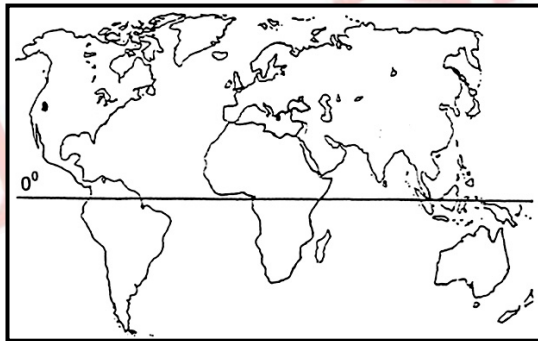
01. (UFRGS-98) Um avião *Concorde* decola de Paris ($48^{\circ}50'N$, $2^{\circ}20'E$ Gr) quando os relógios locais marcam 12 horas. Voa diretamente para o Rio de Janeiro ($22^{\circ}54'S$, $43^{\circ}12'W$ Gr), em sentido contrário ao da rotação da Terra, onde pousa após 4 horas de voo. Qual é a hora local na capital carioca no momento da aterrissagem desse avião?

- (A) 8 horas.
- (B) 11 horas.
- (C) 13 horas.
- (D) 14 horas.
- (E) 17 horas.

02. (UFRGS-98) Sabendo que a Terra tem um raio médio de 6371 km e que um globo que a representa tem 25,4 cm de diâmetro, é correto afirmar que a escala desse globo corresponde, aproximadamente, a

- (A) 1: 81.000
- (B) 1: 5.000.000
- (C) 1: 6.300.000
- (D) 1: 50.000.000
- (E) 1: 100.000.000

Instrução: a figura abaixo refere-se à questão de número 03.



03. (UFRGS) Restos de um navio foram localizados nas seguintes coordenadas geográficas: 20° de latitude sul e 10° de longitude leste.


Leia os itens abaixo, que contêm possíveis indicações do local do naufrágio do navio.

- I. Proximidades da costa oriental da África
- II. Setor ocidental do Oceano Índico
- III. Proximidades da costa ocidental da África
- IV. Setor oriental do Oceano Atlântico

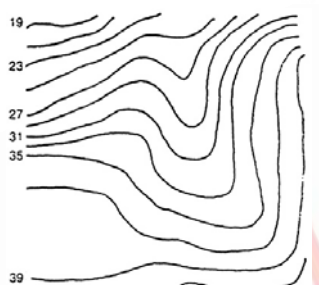
Quais estão corretos?

- (A) Apenas I e II.
- (B) Apenas I e IV.
- (C) Apenas II e III.
- (D) Apenas II e IV.
- (E) Apenas III e IV.

04. (UFRGS-98) Observe as figuras abaixo, que representam curvas de nível.



a



b

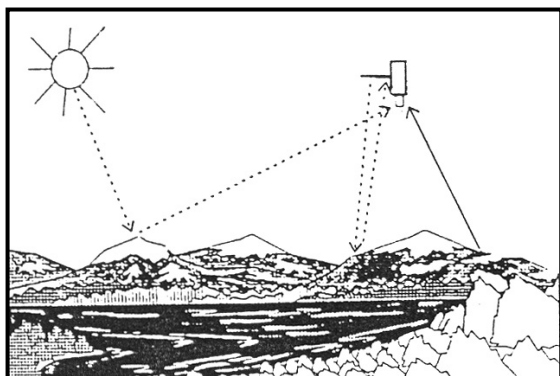


c

As figuras a, b e c representam, respectivamente, curvas de nível típicas

- (A) de terrenos planos; de terrenos íngremes; de um promontório.
- (B) de áreas de fundo de vale; de áreas com coxilhas; de uma depressão fechada.
- (C) de terrenos planos; de áreas com coxilhas; de um promontório.
- (D) de áreas de fundo de vale; de terrenos íngremes; de um promontório.
- (E) de terrenos planos; de áreas de fundo de vale; de uma depressão fechada.

05. (UFRGS-98) A figura abaixo representa três formas de aquisição de informações a partir do sensoriamento remoto.



Com respeito a essa técnica, considere as afirmativas abaixo.

- I. Supõe uma interação energética entre a Terra e o sensor, seja por reflexão de energia do Sol, seja por reflexão de um feixe energético artificial, seja por emissão de energia pela superfície da Terra.
- II. Entre as suas aplicações, podem-se citar a estimativa de safras agrícolas e a determinação do local de áreas desmatadas.
- III. A expansão urbana é um fenômeno que não pode ser avaliado continuamente por meio da utilização da técnica de sensoriamento remoto.

Quais estão corretas?

- (A) Apenas I.
- (B) Apenas II.
- (C) Apenas III.
- (D) Apenas I e II.
- (E) Apenas II e III.

06. (UFRGS-98) As mudanças climáticas do passado são estudadas através da utilização de diferentes técnicas e evidências.

Leia os itens abaixo, que apresentam formas possíveis de detecção de mudanças climáticas.

- I. Estudo de fósseis
- II. Estudo de testemunhos de gelo
- III. Estudo de abalos sísmicos

Quais estão corretos?

- (A) Apenas I.
- (B) Apenas II.
- (C) Apenas I e II.
- (D) Apenas II e III.
- (E) I, II e III.

07. (UFRGS-98) O relevo terrestre é decorrente da atuação de duas forças: as internas, que são as geradoras das grandes formas estruturais do relevo, e as externas, que são as responsáveis pelas formas esculturais do mesmo. Com relação a esse tema, considere as afirmativas abaixo.

- I. As forças ativas são chamadas de tectônicas e provocam movimentos epirogenéticos e orogênicos.
- II. As macroformas estruturais do relevo terrestre são representadas por cadeias orogênicas, bacias sedimentares, depressões, escudos e planaltos.
- III. O intemperismo químico é mais atuante nos climas quentes e úmidos, sendo pouco significativo nos climas desérticos.

Quais estão corretas?

- (A) Apenas I.
- (B) Apenas II.
- (C) Apenas I e III.
- (D) Apenas II e III.
- (E) I, II e III.

Instrução: o mapa abaixo refere-se à questão de número 08.



08. (UFRGS-98) As áreas representadas indicam, no território brasileiro

- (A) os principais conjuntos fitogeográficos.
- (B) as principais bacias hidrográficas.
- (C) os principais climas.
- (D) as principais unidades de solo.
- (E) as principais unidades geomorfológicas.

09. (UFRGS-98) O Rio Paranhana, em Três Coroas, colocou o Rio Grande do Sul no roteiro do Campeonato Mundial de Canoagem. Tal situação deve-se às excelentes condições de competição oferecidas pelas corredeiras desse rio, o qual se caracteriza como

- (A) um rio, em seu curso superior, corta as escarpas do Planalto Basáltico e se dirige à Depressão Central.
- (B) um rio de planície com as nascentes erodindo as rochas cristalinas do Escudo Sul-Rio-Grandense.
- (C) um rio de planalto que, em seu curso superior, apresenta corredeiras sobre os granitos e sedimentos do Planalto Basáltico.
- (D) um rio que, em seu curso médio, percorre granitos e basaltos do Planalto Basáltico e se dirige à Planície Costeira.
- (E) um rio de planalto que corta os basaltos do Escudo Sul-Rio-Grandense e se dirige à Depressão Central.

10. (UFRGS-98) Leia o texto abaixo.

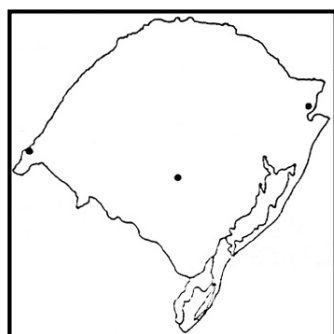
"Em alguns lugares mais alto e planos depara-se um fenômeno único em todo o Rio Grande do Sul: areias de muitos hectares de superfície no meio do campo, como verdadeiras dunas continentais: é como se a paisagem quisesse conservar uma lembrança do que foi toda essa região nas longínquas eras do Triássico, quando ainda não existia a valente flora de campo para subjugar os areais."

RAMBO, B. *A fisionomia do Rio Grande do Sul*. Porto Alegre: Selbach, 1956.

Assinale a alternativa que compreende o grupo de municípios gaúchos que apresentam a paisagem acima descrita.

- (A) São Francisco de Paula - cambará do Sul - Bom Jesus
- (B) Tramandaí - Capão da Canoa - Cidreira
- (C) Bagé - Dom Pedrito - Jaguarão
- (D) Passo Fundo - Soledade - Carazinho
- (E) São Francisco de Assis - Manoel Viana - Alegrete

11. (UFRGS-98) O filme *Anahy de las Misiones* despertou a população gaúcha para algumas das riquezas de nossa geografia, apresentando, em seus cenários, características marcantes da paisagem do Rio Grande do Sul. O filmem foi rodado nos municípios de Uruguaiana, Caçapava do Sul e Cambará do Sul, indicados na figura abaixo





www.Universitário.com.br

Assinale a alternativa que apresenta as unidades geomorfológicas correspondentes, respectivamente, aos municípios de Uruguaiana, Caçapava do Sul e Cambará do Sul.

- (A) Cuesta de Haedo - Escudo Sul-Rio-Grandense - Planalto Basáltico
- (B) Planalto Basáltico - Escudo Sul-Rio-Grandense - Depressão Periférica
- (C) Cuesta de Haedo - Depressão Periférica - Planalto Basáltico
- (D) Planalto Basáltico - Cuesta de Haedo - Depressão Periférica
- (E) Depressão Periférica - Cuesta de Haedo - Planalto Basáltico

12. (UFRGS-98) Considere as afirmativas abaixo, relacionadas a questões ambientais globais.

- I. Nas últimas décadas, as inovações introduzidas no setor primário com vistas ao aumento da produtividade têm provocado a homogeneização das espécies vegetais e animais e a sua vulnerabilidade a pragas e doenças.
- II. A água do nosso planeta vem sendo mal utilizada pelo homem. Embora ainda exista abundância de água doce em algumas regiões, como na Bacia Amazônica, em outras, como no oriente Médio, sua escassez pode gerar problemas geopolíticos.
- III. A intensificação do efeito estufa, durante os últimos duzentos anos, causou o aumento da temperatura média do planeta em 5°C.

Quais estão corretas?

- (A) Apenas I.
- (B) Apenas II.
- (C) Apenas III.
- (D) Apenas I e II.
- (E) Apenas II e III.

13. (UFRGS-98) O aquecimento superficial das águas do Oceano Pacífico provocado pelo fenômeno *El Niño* foi destaque na imprensa e nos centros de pesquisa em 1997.

Assinale V para as afirmativas que se relacionam ao fenômeno *El Niño* e F para as que não se relacionam a ele.

- () A forte seca ocorrida na Indonésia provocou queimadas na Floresta Tropical que ocasionam sérios problemas ambientais, como a poluição atmosférica.
- () A circulação atmosférica modificou-se, causando diminuição da intensidade dos ventos Alíseos na área do Pacífico Tropical.
- () As precipitações que ocorreram no norte da Austrália e na Indonésia foram abaixo do normal.
- () O vulcanismo ocorrido na ilha de Montserrat (Caribe) fez com que sua população fosse evacuada para as ilhas vizinhas.



www.Universitário.com.br

- () As fortes chuvas e enchentes que ocorreram no sul do Brasil, no sudeste do Paraguai e no nordeste da Argentina, foram provocadas pela retenção de frentes frias vindas do sul do continente pelos ventos quentes e úmidos do noroeste.

A seqüência correta de preenchimento dos parênteses, de cima para baixo, é

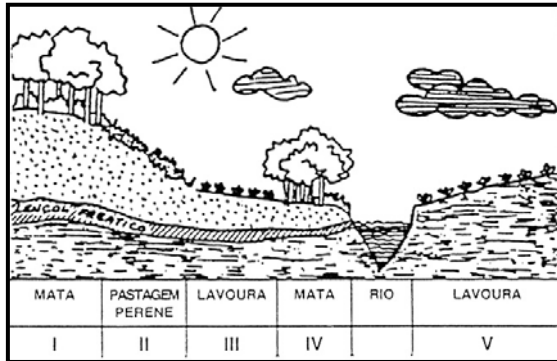
- (A) F - F - V - F - V
- (B) V - V - F - F - V
- (C) F - F - F - V - F
- (D) V - V - V - F - V
- (E) V - V - F - F - F

14. (UFRGS-98) As alternativas abaixo contêm afirmações relacionadas com a formação de solos, com o seu manejo e com a sua conservação.

Assinale a alternativa incorreta.

- (A) O solo da Região Centro-Oeste do Brasil apresenta formação de concreções lateríticas devido à alternância sazonal das chuvas que ocorrem no clima tropical com estação seca.
- (B) O plantio direto é uma técnica inadequada à conservação do solo, pois diminui os teores de matéria orgânica, favorecendo a compactação do solo e, conseqüentemente, a erosão do mesmo.
- (C) Quanto mais pesados forem os implementos e maquinárias agrícolas utilizados em um terreno, maior será a compactação do solo.
- (D) O uso excessivo de adubos químicos pode levar ao empobrecimento do solo e à conseqüente queda da produtividade.
- (E) Os solos da Floresta Amazônica são pobres em nutrientes, devido à intensa lixiviação, dispondo, porém, de uma cobertura vegetal em decomposição que contribui com a matéria orgânica necessária à realimentação da mata.

15. (UFRGS-98) O planejamento em uma propriedade agorpecuária é importante para que cada agricultor programe a exploração agrícola do solo de acordo com as características do relevo e evite problemas de erosão e assoreamento dos rios. Analisando a figura abaixo, assinale o setor no qual o uso do solo está menos adequado, considerando a dinâmica da natureza e as modernas práticas de conservação do solo.



- (A) Setor I.
- (B) Setor II.
- (C) Setor III.
- (D) Setor IV.
- (E) Setor V.

16. (UFRGS-98) Assinale a alternativa que preenche corretamente as lacunas do texto abaixo.

O uso inadequado do solo urbano provoca problemas ambientais que afetam a qualidade de vida dos seus habitantes. A impermeabilização do solo urbano o escoamento superficial das águas e o controle de enchentes em períodos de precipitação.

- (A) dificulta - fluviais - favorece - alta
- (B) dificulta - pluviais - favorece - baixa
- (C) dificulta - pluviais - dificulta - alta
- (D) facilita - pluviais - dificulta - alta
- (E) facilita - fluviais - dificulta - baixa

17. (UFRGS-98) As conurbações urbanas apresentam características microclimáticas, como

- (A) temperaturas constantes nos diferentes bairros.
- (B) redução da insolação e aumento da visibilidade.
- (C) diminuição das amplitudes térmicas diárias.
- (D) elevação das diferenças térmicas entre as áreas rurais e urbanas.
- (E) temperaturas mais elevadas nas periferias do que nos centros urbanos.

18. (UFRGS-98) Os textos abaixo referem-se ao sertão do Nordeste brasileiro.

Texto I



www.Universitário.com.br

A seca, a falta de chuva e a natureza hostil são fundamentais para explicarmos a miséria, o analfabetismo, a doença e a descapitalização do agricultor nordestino.

Texto II

Na escassez pluviométrica, que dificulta a reprodução de pragas, e na fertilidade de grandes extensões de solos, está um enorme potencial para a agricultura irrigada de caráter empresarial. O clima aqui é um recurso inestimável face à constante insolação, propiciando o desenvolvimento de culturas que, manejadas adequadamente, podem dar origem a uma nova Califórnia.

Identifique a opção correta quanto aos textos apresentados.

- (A) O texto I identifica a causa principal para os problemas do sertão nordestino, enquanto o texto II mostra ceticismo quanto às suas potencialidades.
- (B) O texto I apresenta uma visão conservadora, e o texto II não se coaduna com as potencialidades econômicas do sertão nordestino.
- (C) O texto I identifica na natureza a causa principal para os problemas do sertão nordestino, enquanto o texto II não indica as suas potencialidades econômicas.
- (D) Os textos apresentam visões distintas, oriundas de agentes regionais com os mesmos interesses político-econômicos.
- (E) Os textos apresentam visões distintas, sendo que o texto I apresenta uma visão determinista e o texto II indica as potencialidades econômicas do sertão nordestino.

19. (UFRGS-98) Assinale a alternativa incorreta relativamente ao quadro brasileiro atual.

- (A) A carência de áreas livres nas metrópoles e a instituição de leis coercitivas quanto ao uso do solo nas mesmas dificultam a implantação de grandes indústrias nesses locais, fazendo com que tais estabelecimentos sejam levados para os municípios periféricos ou para as cidades de porte médio.
- (B) A concentração da população nas Regiões Metropolitanas (RM) é notória. Em todas as RM, com exceção da de Belém, na qual a metrópole e os municípios periféricos crescem à mesma taxa, a metrópole cresce a taxas mais elevadas do que os demais municípios pertencentes à RM.
- (C) A desconcentração geográfica industrial vem sendo observada desde os anos 80. O setor calçadista gaúcho, por exemplo, vem deslocando suas indústrias, nos últimos anos, para a Região Nordeste, atraído pelos incentivos fiscais e pela mão-de-obra barata.
- (D) Em termos demográficos, houve uma diminuição no papel da Região Sudeste como lugar privilegiado para o crescimento da população brasileira. Atualmente, a dinâmica do aumento da população urbana deslocou-se para o Centro-Oeste e, especialmente, para a fronteira urbana da Amazônia.
- (E) São Paulo é considerada a metrópole nacional do sistema urbano devido às suas atividades financeiras e informacionais e por ser o local de articulação da economia brasileira com as cidades mundiais de primeira grandeza.

20. (UFRGS-98) O Brasil apresenta níveis elevados de concentração de renda e de terra. Entre as conseqüências desse fenômeno, podemos apontar vários fatos, exceto:



www.Universitário.com.br

- (A) pressão, por parte dos movimentos sociais, para agilizar as desapropriações de terras com fins de reforma agrária;
- (B) privação das estatais e aumento da presença, em nossa economia, de empresas multinacionais, provenientes, sobretudo, do Sudeste Asiático;
- (C) aumento da violência no campo e na cidade.
- (D) Aumento dos movimentos sociais no campo e na cidade, dos quais são exemplos o movimento dos Sem-Terra e o dos Sem-Teto;
- (E) ocorrência de migrações internas (cidade-cidade; campo-cidade) em busca de melhores condições de vida.

21. (UFRGS-98) Com relação à população brasileira, podemos afirmar que

- (A) sua taxa de crescimento populacional vem diminuindo nos últimos vinte e cinco anos.
- (B) as taxas de crescimento populacional das Regiões Norte e Centro-Oeste têm sido menores, na última década, do que as taxas de crescimento populacional das Regiões Sul e Sudeste.
- (C) sua taxa de analfabetismo é, atualmente, inferior a 10%.
- (D) ela apresenta elevado padrão de vida se comparada às populações dos países da América Anglo-Saxônica.
- (E) sua renda *per capita* é homogeneamente distribuída, o que é comprovado pela nossa posição intermediária no Índice de Desenvolvimento Humano, publicado pela ONU.

22. (UFRGS-98) Sobre o aumento da expectativa de vida, considere as seguintes afirmações.

- I. O aumento da expectativa de vida da população mundial, combinado com as mudanças no estilo de vida, propiciará o aumento dos casos de doenças crônicas.
- II. O aumento da expectativa de vida da população brasileira nas últimas duas décadas acarretará a necessidade não só de uma oferta ampliada de vagas nas escolas de ensino fundamental como também de maiores investimentos nos setores de puericultura e obstetrícia.
- III. O aumento da expectativa de vida de um determinado país é um indicador qualitativo do seu desenvolvimento.

Quais estão corretas?

- (A) Apenas I.
- (B) Apenas II.
- (C) Apenas III.
- (D) Apenas I e II.
- (E) Apenas I e III.

23. (UFRGS-98) Pesquisa recente do Programa das Nações Unidas para o Desenvolvimento (PNUD, ONU, 1997) apresentou levantamento sobre as condições da mulher no contexto da população mundial.

Considere as afirmativas abaixo.

- I. O Brasil segue a tendência mundial de as mulheres terem uma expectativa de vida superior à dos homens.
- II. Quanto maior for o grau de desenvolvimento da economia e dos indicadores sociais, maior será a exclusão das mulheres da participação política.
- III. O elevado índice de desenvolvimento social coloca as mulheres dos países da América do Norte e da Europa Setentrional em condições, no geral, mais favoráveis que as mulheres das nações centro-americanas, africanas e asiáticas.

Quais estão corretas?

- (A) Apenas I.
- (B) Apenas II.
- (C) Apenas I e III.
- (D) Apenas II e III.
- (E) I, II e III.

24. (UFRGS-98) A China e a Índia têm muitas características em comum.

Assinale falso (F) ou verdadeiro (V) para as afirmativas abaixo.

- () Configuram-se como os países de maior densidade demográfica do mundo.
- () São importantes pelo grande continente populacional e pelo potencial do mercado consumidor.
- () Apresentam baixos índices de renda *per capita* e contingentes de pessoas que vivem miseravelmente.
- () As características de grande pobreza, violência política interna e mercados internos muito fechados afastam desses países os grandes grupos internacionais.
- () Têm forças armadas poderosas e conflitos regionais internos de caráter étnico-religioso.

A seqüência correta de preenchimento dos parênteses, de cima para baixo, é

- (A) V - V - V - F - F
- (B) F - V - V - V - F
- (C) F - V - V - F - V
- (D) V - F - V - F - V
- (E) V - F - V - F - F

25. (UFRGS-98) Sobre a temática do trabalho e da mão-de-obra no Brasil, podemos afirmar que

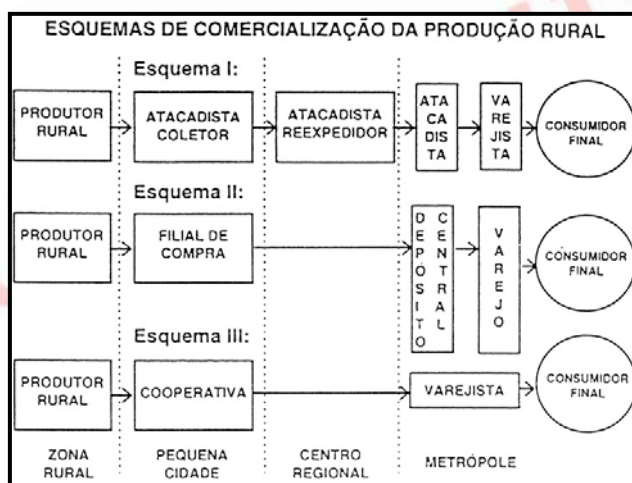
- (A) os atuais índices de crescimento econômico aliados ao próprio envelhecimento da população, levam-nos a concluir que, até o final do milênio, o trabalho infantil será eliminado.
- (B) o grande número de menores de idade trabalhando em condições precárias tem levado autoridades e entidades não-governamentais a combater a idéia de que o trabalho infantil tem valor tão educativo quanto o da própria escola.

- (C) uma das regiões que menos utiliza o trabalho infantil é a área das pequenas propriedades na Região Sul.
- (D) o mercado de trabalho informal tem diminuído graças à flexibilização das leis de trabalho já implementadas pelo governo federal.
- (E) o mercado de trabalho exige cada vez menos qualificação formal (escolarização), em função da grande massa de desempregados.

26. (UFRGS-98) A agricultura tem sido uma atividade econômica muito afetada nos acordos de integração comercial, acordos internacionais têm pressionado governos a eliminar subsídios internos e taxas de importação. No Brasil, um produto agrícola - com sua respectiva região de produção - diretamente afetado pela integração comercial do Mercosul é

- (A) o trigo no Rio Grande do Sul.
- (B) o café na Bahia.
- (C) a cana-de-açúcar na Rio de Janeiro.
- (D) o algodão no Ceará.
- (E) o arroz no Maranhão.

27. (UFRGS-98) Observe o quadro abaixo, que representa os esquemas de comercialização da produção de bens primários desde a zona rural até o consumidor final.



Os esquemas I, II e III são, respectivamente

- (A) o tradicional; o de cadeia de supermercados; o de associação de produtores.
- (B) o de cadeia de supermercados; o de associação de produtores; o tradicional.
- (C) o de cadeia de supermercados; o tradicional; o de associação de produtores.
- (D) o de associação de produtores; o tradicional; o de cadeia de supermercados.
- (E) o tradicional; o de associação de produtores; o de cadeia de supermercados.

28. (UFRGS-98) Observe os quadros abaixo.

QUADRO I	
Profissões dos emigrantes no Brasil (1993-1996)	
PORFISSÕES	(%)
Pesquisadores e doutores	0,63
Diretores e investidores	10,79
Sem qualificação	11,25
Artistas e desportistas	11,63
Marítimos e pescadores	18,85
Técnicos e profissionais liberais	46,85

Ministério do Trabalho, 1996.

QUADRO II	
Unidade da Federação de permanência dos imigrantes no Brasil (1993-1996)	
UNIDADE DA FEDERAÇÃO	(%)
Pernambuco	1,5
Amazonas	1,7
Distrito Federal	1,7
Bahia	2,0
Santa Catarina	2,4
Rio Grande do Sul	2,7
Paraná	3,4
Minas Gerais	3,7
Rio de Janeiro	24,4
São Paulo	47,3

Ministério do Trabalho, 1996.

Considere, a partir dos indicadores, as afirmações abaixo.

- I. A maioria dos imigrantes sem qualificação profissional destina-se aos estados do nordeste.
- II. O fluxo de imigrantes que entram ilegalmente no país é crescente, e eles são provenientes, em sua maioria, de países latino-americanos.
- III. A maioria dos estados das Regiões Sul e Sudeste recebeu, no período de 1993 a 1996, um número de imigrantes maior do que o de outras unidades da Federação.

Quais estão corretas?

- (A) Apenas I.
- (B) Apenas II.
- (C) Apenas III.
- (D) Apenas I e III.
- (E) Apenas II e III.

29. (UFRGS-98) Pelo menos 100 milhões de emigrantes vivem fora de seus países de origem, segundo dados da Organização das Nações Unidas (ONU).

Leia as afirmações abaixo, que se relacionam às últimas tendências migratórias internacionais.

- I. O Japão, país com leis laborais rígidas, vem recebendo um número crescente de imigrantes ilegais provenientes de países como Filipinas, Tailândia, Paquistão e Bangladesh.
- II. Estados Unidos, Canadá e Austrália são países que, tradicionalmente, se caracterizam por ser fonte de emigrantes.
- III. O Brasil contribui com contingentes emigratórios para países como o Japão, o Paraguai e os Estados Unidos.

Quais estão corretas?

- (A) Apenas I.
- (B) Apenas II.
- (C) Apenas III.
- (D) Apenas I e II.
- (E) Apenas I e III.

30. (UFRGS-98) Globalização e neoliberalismo são conceitos muito empregados atualmente nos mais variados eventos científicos e nos meios de comunicação.

Considere, a partir disso, as afirmações abaixo.

- I. Os blocos regionais, como, por exemplo, o Mercado Comum do Sul (Mercosul), a Associação dos Países do Pacífico (Apec) e a União Européia (EU) têm aberto os seus mercados internos a outros blocos, para que o comércio mundial possibilite, sobretudo aos mais pobres, o acesso aos benefícios da livre concorrência.
- II. As empresas transnacionais vêm estabelecendo redes, cadeias de cooperação e alianças, o que caracteriza uma integração cada vez maior da economia mundial.
- III. A globalização da economia capitalista, com o avanço do neoliberalismo, tem estimulado o consumismo em todos os continentes, o que tem ocasionado uma rápida melhoria das condições de vida das populações dos países não desenvolvidos.

Quais estão corretas?

- (A) Apenas I.
- (B) Apenas II.
- (C) Apenas III.
- (D) Apenas I e III.
- (E) Apenas II e III.

31. (UFRGS-98) O Banco Mundial, em relatório de 1997, aponta alguns países que, embora não integram atualmente o grupo de países mais desenvolvidos, apresentam condições de dobrar sua participação no comércio mundial até 2020. Esses países são

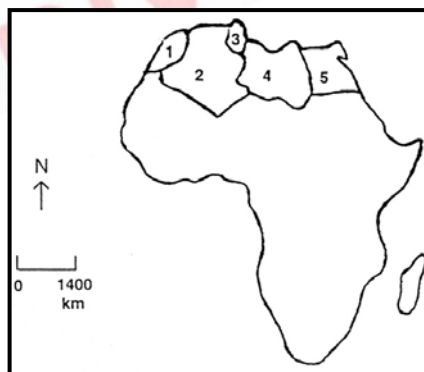
- (A) Brasil, China, Índia e Indonésia.
- (B) Argentina, China, Japão e Tailândia.
- (C) Índia, Japão, Chile e África do Sul.
- (D) Austrália, China, Índia e Nova Zelândia.
- (E) Brasil, China, Indonésia e Itália.

32. (UFRGS-98) A chamada Ásia Ocidental é uma importante área de encontro de culturas asiáticas, européias e africanas, marcada por graves conflitos geopolíticos e rivalidades étnicas, culturais e religiosas.

Assinale a alternativa que indica corretamente as grandes religiões monoteístas possuídas de contingentes de seguidores na área citada e as "cidades santas" correspondentes a essas regiões.

- (A) O islamismo, o judaísmo e o cristianismo, sendo Meca uma cidade santa para o islamismo, Istambul, para o judaísmo, e Jerusalém, para o cristianismo.
- (B) O islamismo, o judaísmo e o cristianismo, sendo Meca uma cidade santa para as três, e Jerusalém, apenas para o judaísmo.
- (C) O budismo, o judaísmo e o cristianismo, sendo Meca um cidade santa para as três.
- (D) O islamismo, o budismo e o cristianismo, sendo Jerusalém uma cidade santa para o cristianismo, Meca, para o budismo, e istambul, para o islamismo.
- (E) O islamismo, o judaísmo e o cristianismo, sendo Jerusalém uma cidade santa para as três.

33. (UFRGS-98) O mapa abaixo mostra cinco países do norte do continente africano.



A respeito desses países, são feitas as seguintes afirmações

- I. os países 1, 2 e 3 são ex-colônias inglesas;
- II. no país 2, age o Grupo Islâmico Armado (GIA), uma organização extremista que luta para derrubar o governo central;
- III. o país 4 enfrenta um embargo econômico, por ser acusado de promover o terrorismo internacional;

IV. o país 5 é o mais industrializado do continente.

Quais estão corretas?

- (A) Apenas I e III.
- (B) Apenas I e IV.
- (C) Apenas II e III.
- (D) Apenas II e IV.
- (E) Apenas III e IV.

34. (UFRGS-98) Assinale a alternativa que completa corretamente as lacunas do texto abaixo.

Atualmente, cresce cada vez mais o número de grupos separatistas que lutam pela independência de certas regiões dentro de um país. Em virtude de diferentes processos de colonização protagonizados por, as tendências separatistas são atuantes no(a), onde, de maioria francesa, reivindica uma posição especial.

- (A) ingleses e franceses - Canadá - Quebec
- (B) ingleses e franceses - Canadá - Ontário
- (C) espanhóis e bascos - Espanha - o País Basco
- (D) ingleses e espanhóis - Espanha - Gibraltar
- (E) norte-americanos e franceses - Canadá - Quebec

35. (UFRGS-98) Atualmente, existem no mundo vários focos de tensão que se localizam em diferentes regiões.

Assinale a alternativa que estabelece uma correspondência incorreta entre a região e a identificação do conflito.

- (A) Fronteira entre Coreia do Sul e Coreia do Norte - disputa entre capitalistas e socialistas, remanescente da Guerra Fria.
- (B) Ilha de Sri Lanka - conflito entre separatistas tâmeis e o governo cingalês.
- (C) Ilha de Chipre - disputa entre Grécia e Turquia.
- (D) Cordilheira do Condor, na fronteira entre Peru e Equador - disputa por uma saída para o Oceano Pacífico.
- (E) Timor Leste - conflito no qual timorenses buscam a independência, em oposição ao governo indonésio.